



















7 - Digit rounding off
WORKSHEET#1

1.  Fill in the blanks to get correct rules for rounding off.

- a) When the first digit removed is 'less than 5" the last digit remaining _____.
- b) When the first digit removed is " _____" the last digit remaining increase by 1.

2.  Round off the following numbers to the nearest hundred.

- a) 3 467 823  _____
- b) 7 117 494  _____
- c) 1 243 651  _____
- d) 4 278 635  _____
- e) 9 788 444  _____
- f) 2 512 375  _____
- g) 8 673 217  _____
- h) 3 542 964  _____
- i) 5 479 851  _____
- j) 8 777 566  _____
- k) 3 420 056  _____
- l) 4 211 111  _____
- m) 7 532 798  _____
- n) 6 348 999  _____
- o) 9 007 007  _____
- p) 6 589 969  _____

1.

- a) stays the same
- b) 5 or more

2.

- a) 3 467 800
- b) 7 117 500
- c) 1 243 700
- d) 4 278 600
- e) 9 788 400
- f) 2 512 400
- g) 8 673 200
- h) 3 543 000
- i) 5 479 900
- j) 8 777 600
- k) 3 420 100
- l) 4 211 100
- m) 7 532 800
- n) 6 349 000
- o) 9 007 000
- p) 6 590 000